



**Ciencias Naturales semana del 05 al 09 de octubre primero básico**

**Objetivo:** Reconocer y comparar diversas plantas y animales de nuestro país, considerando las características observables y proponiendo medidas para su cuidado

**Los animales**

Observa las siguientes páginas del libro

**Lección 5** ¿Qué cubre el cuerpo de los animales?

**Explora**  
 Los animales están cubiertos de:



Osos



Pelos



Gatos



Camaleón



Escamas



Pez



Plumas



Guacamayo







Lechuza

**Comenta**

- ¿Qué animales tienen el cuerpo cubierto de ?
- ¿Qué otro animal tiene ? Nombra uno.
- ¿En qué se parecen el  y el ?

Responde:

- ¿Qué animales tienen el cuerpo cubierto de ?
- ¿Qué otro animal tiene ? Nombra uno.
- ¿En qué se parecen el  y el ?



1. Gustavo eligió estas características:

- Cubierta de su cuerpo       Tamaño

76

2. Gustavo comparó los animales.

La cubierta del  es  y su tamaño es **grande**.

La cubierta del  es  y su tamaño es **pequeña**.

Y señaló:

El  y el  tienen .

El  es más grande que el .









Colegio Tecnológico Pulmahue  
Profesor Angela Silva Riquelme

Contacto: [profeangela.edb@gmail.com](mailto:profeangela.edb@gmail.com)

Horario: 10:00 a 12:00 – 15:00 a 18:00 pm


Actividad 1: Según la observación de estas páginas compara dos animales según su pelaje, tamaño y la forma de desplazarse. (pídele ayuda a tu familia).




Responde Actividad 2:

1. ¿Qué le permite al  desplazarse de un lugar a otro?

2. ¿Qué parte del cuerpo de la  le permite desplazarse?

3. ¿Por qué el  y el  se desplazan de distinta forma?

Actividad 3: Dibuja un animal más grande y pequeño que el humano.

		
Grande	Ser Humano	Pequeño

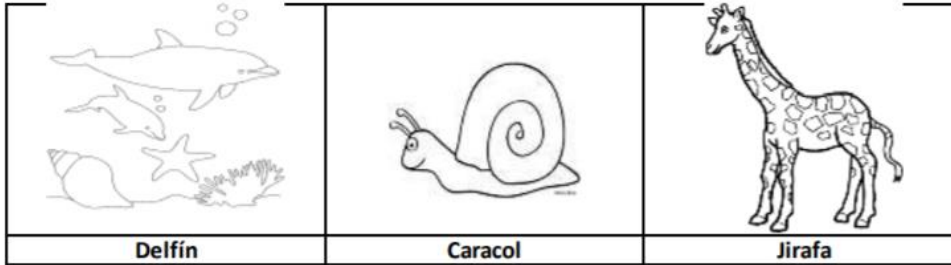


Colegio Tecnológico Pulmahue  
Profesor Angela Silva Riquelme


Contacto: [profeangela.edb@gmail.com](mailto:profeangela.edb@gmail.com)

Horario: 10:00 a 12:00 – 15:00 a 18:00 pm


A) Encierra en un círculo la alternativa correcta.



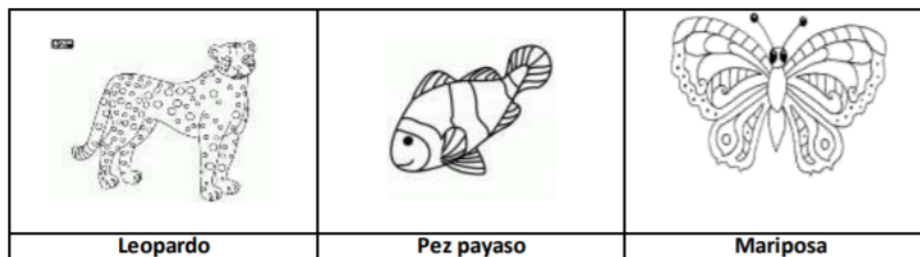
B) ¿Cuál de estos animales se desplaza con las patas?



C) ¿Cuál de estos animales se desplaza con aletas?



D) ¿Cuál de estos animales se desplaza con alas?








Colegio Tecnológico Pulmahue  
Profesor Angela Silva Riquelme

Contacto: [profeangela.edb@gmail.com](mailto:profeangela.edb@gmail.com)

Horario: 10:00 a 12:00 – 15:00 a 18:00 pm

4. Une con una línea el animal con su cobertura corporal correspondiente.



Escamas



Plumas



Pelos



Piel lisa y humeda.